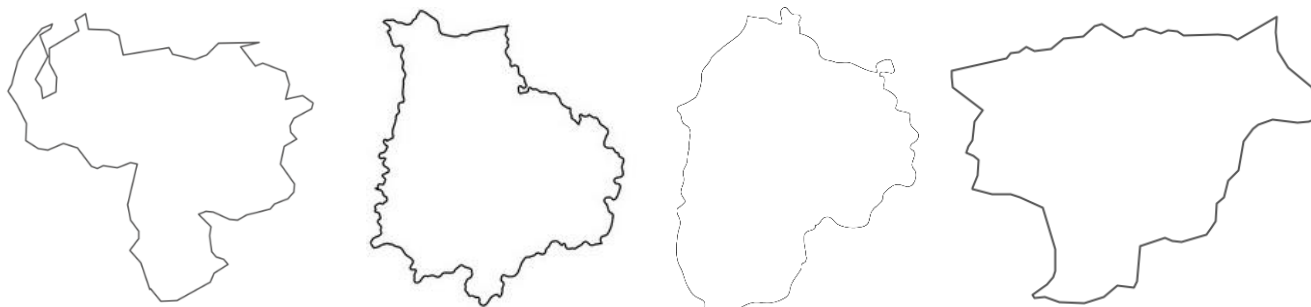


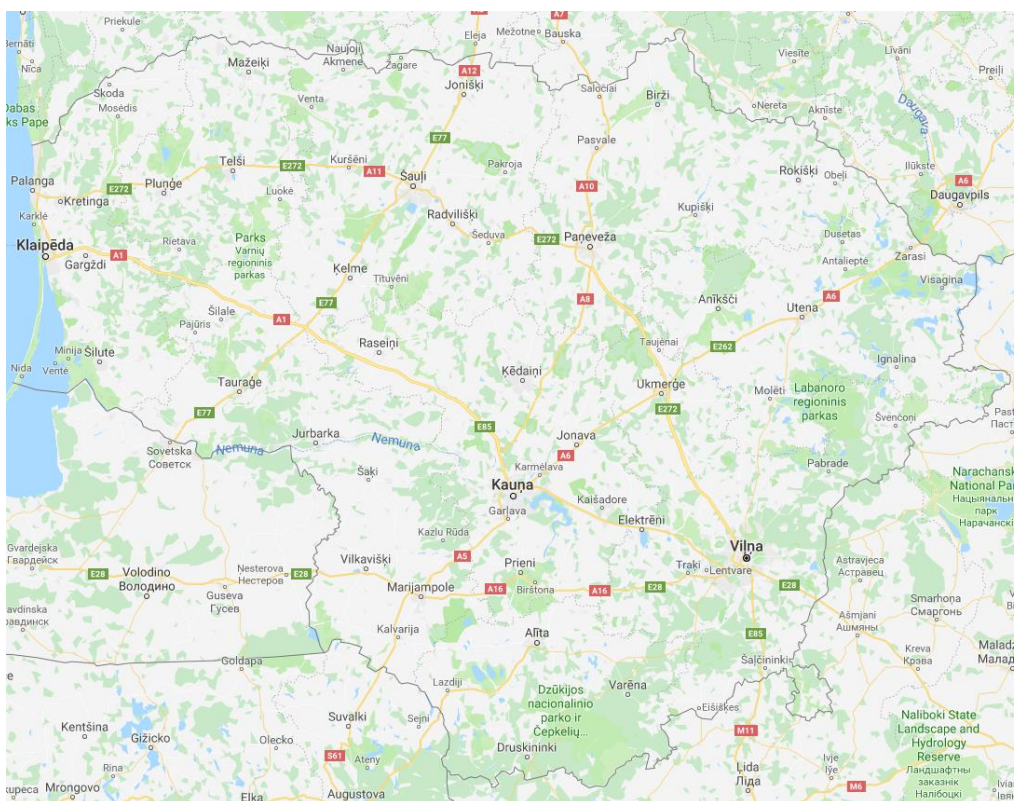
TREŠĀ ATLASĒS ANKETA

LIETUVA

1. Kura no dotajām ir Lietuvas kontūra? Apvelc to uz atzīmē kur atrodas Viļņa! (2p)



2. Uzrakstiet šo Lietuvas dabas objektu nosaukumus un atzīmējiet tos kartē (upi ar līniju)! (12p)



A) Garākā upe – _____

D) Dziļākais ezers - _____

B) Augstākā virsotne _____

E) Ezers ar visvairāk salām – _____

C) Lielākais dižakmens - _____

F) Lielākais ezers – _____

3. Kā šos dzīvniekus sauc lietuviešu zoologi? (6p)

Alnis – **b** _____

Mežacūka – **š** _____

Staltbriedis - **t** _____


Brūnais lācis - **r** _____


Sikspārnis – **p** _____

Susuris – **m** _____

4. Turpinām apskatīt Baltijas valstu ģērboņus! Katram ģērbonim pieraksti apdzīvotās vietas nosaukumu, kā arī organismu, kas attēlots tajā. Centies būt precīzs! Lai atvieglotu uzdevumu, tālāk ir dažādu Lietuvas apdzīvoto vietu saraksts, ko vari izmantot, bet uzmanies, jo ir iekļīduši arī daži Latvijas pilsētu ģērboņi. (32p)

Bataķiai, Birštona, Bubiai, Degučiai, Gruzdžiai, Ignalina, Jonava, Karsakiškis, Keturvalakiai, Krosna, Kruopiai, Kuktiškės, Labanoras, Lapės, Lazdiji, Salakas









5. Uzraksti Viļņas apskates objektu nosaukumus! (6p)

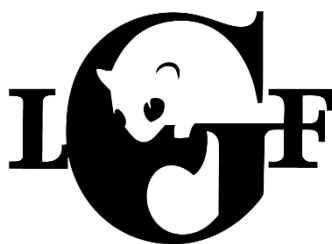


6. Aizpildi tabulu! Koordinātām var būt nelielas nobīdes no paša objekta.(12p)

Koordinātas	Objekts	Ar ko šis objekts ir īpašs
55.830053, 26.217581		
55.3942213, 26.0495461		
55.485095, 25.060364		
56.0152856, 23.4167960		
55.6046351, 26.5624565		
55.8214701, 25.8334745		

7. Uzraksti VIENAS dienas ekskursijas maršrutu pa Kuršu kāpām, sākot no Klaipēdas autoostas un iekļaujot vismaz 3 objektus! (10p)

8. Papildini tekstu! (10p)



Lietuvas Dabas fonds par savu simbolu ir izvēlējies _____. To klātbūtne norāda uz konkrētās teritorijas veselīgu ekoloģisko līdzsvaru, tādēļ tā ir nozīmīga _____. Šos dzīvniekus var sastapt lapukoku un jauktajos mežos un tie ir aktīvi diennakts _____ laikā. Parasti tie sasniedz 12-18 cm garumu un to aste vēl papildus 12-15 cm, tās dēļ tos var sajaukt ar _____.

Vairāk kā pusi gada šie dzīvnieki pavada _____, tā laikā zaudējot 1/3 sava svara. Tie labprāt izmanto cilvēku izvietotus _____ savai migai. Pavasarī šie dzīvnieki pārtiek no pumpuriem, lapām, mizas, vabolēm un putnu olām, bet vasarā un rudenī lieto uzturā dažādas ogas, zīles, lazdu riekstus un dižskabāržu riekstiņus. Savukārt šos dzīvniekus ēd _____, _____ un caunas.

Lietuva, kopā ar Latviju, atrodas uz šīs sugas areāla _____ robežas un tā ir aizsargājama. Šobrīd Lietuvā ir aptuveni _____ šīs sugas atradnes. Šos dzīvniekus apdraud lapu koku mežu izciršana un klimata pārmaiņas.

📍 ATBILŽU IESŪTĪŠANAS TERMIŅŠ NO 19. FEBRUĀRA LĪDZ 19. MARTAM.

ZIŅAS PAR DALĪBNIEKIEM

Komandas nosaukums: _____

Skola, klase: _____

Komandas kontaktinformācija:

e-pasts: _____

Telefona numurs: _____

Skolotājs, kontakti: _____