



2021.|2022. sezona  
PIRMĀ ATLASĒS ANKETA

# Meži

1. Uzraksti trīs faktus, kas atšķir dotos dzīvniekus vienu no otra! Fakti var būt par to uzbūvi, uzvedību, izplatību un citiem faktoriem. (15 p)

Brīdinājums – no interneta kopēti teksti saņems 0 punktu!

## Jaguārs un leoparda

---

---

---

---

## Indri un orangutani

---

---

---

---

## Skunkss un āpsis

---

---

---

---

## Kukaburra un melnā dzilna

---

---

---

---

## Tapīrs un pekars

---

---

---

---




## HORIZONTĀLI

5. Vēji, kas piegādā mitrumu daudziem tropu lietus mežiem
6. Attēlā redzamais dzīvnieks
11. Process, kurā no augu dzīvajām šūnām iztvaiko ūdens. Atbildīgs par klimata uzturēšanu lietus mežos
12. Parazītisks augs ar vienu no vislielākajiem ziediem pasaulē
14. Attēlā redzamais dzīvnieks
15. Populāra saldumu izejviela, kas nākusi no lietus mežiem
17. Populārs tropu auglis, kas cēlies no Dienvidaustrumāzijas
20. Lielākā čūska pasaulē
21. Attēlā redzamais dzīvnieks
22. Tropu auglis ar izteiktu smaku, kura izskats atgādina ezi
23. Līdz lietus mežu augsnei nonāk tikai niecīgs daudzums

## VERTIKĀLI

1. Dienvidamerikas plēsējputns, kas galvenokārt pārtiek no sliņķiem
2. Augi, kas aug uz kokiem un to zariem
3. Parādība, kad viena suga aizsardzības nolūkos ir līdzīga citai bīstamākai sugai
4. Centrālamerikā un Dienvidamerikā sastopams plēsēju kārtas dzīvnieks ar tvērējasti
7. Dzimta kurai pieder smaržīgā vaniļa
8. Centrālamerikā un Dienvidamerikā sastopamu krāsainu un indīgu varžu grupa
9. Abinieks, kuram starp kāju pirkstiem ir plēve, kas ļauj pārvietoties starp kokiem, no tiem nenokāpjot
10. Galvenais cilvēku radītais apdraudējums lietus mežiem
13. Lielākais lietus mežs pasaulē
15. Attēlā redzamais dzīvnieks
16. Ēdams Dienvidamerikas auglis, kuru sauc arī par pasifloru
18. Attēlā redzamais dzīvnieks
19. Dažādu sugu vītenaugi, kas atbalstam izmanto kokus





3. Daudzi augi un dzīvnieki, ko varam sastapt savās istabās ir nākuši no dažādām pasaules vietām. Daudzas no šīm sugām ir nokļuvušas citur pasaulē un nonākot dabā var kļūt invazīvas. Iezīmē kartē tikai to dabiskās izplatības areālus! (12 p)



**A** Āfrikas milzgliemezis  
*Lissachatina fulica*



**B** Dižā aspidistra  
*Aspidistra elatior*  
(Mājas svētība)




**C** Fitonija  
*Fittonia verschaffeltii*



**D** Garšīgā monstera  
*Monstera deliciosa*



**E** Imperatorskorpions  
*Pandinus imperator*



**F** Nepente  
*Nepenthes alata*



**G** Nošķeltais zigokaktuss  
*Zygocactus truncatus*  
(Ziemassvētku kaktuss)




**H** Parastā efeja  
*Hedera helix*



**I** Puantsetija  
*Euphorbia pulcherrima*  
(Ziemassvētku zvaigzne)



**J** Pušķu hlorofīts  
*Chlorophytum comosum*

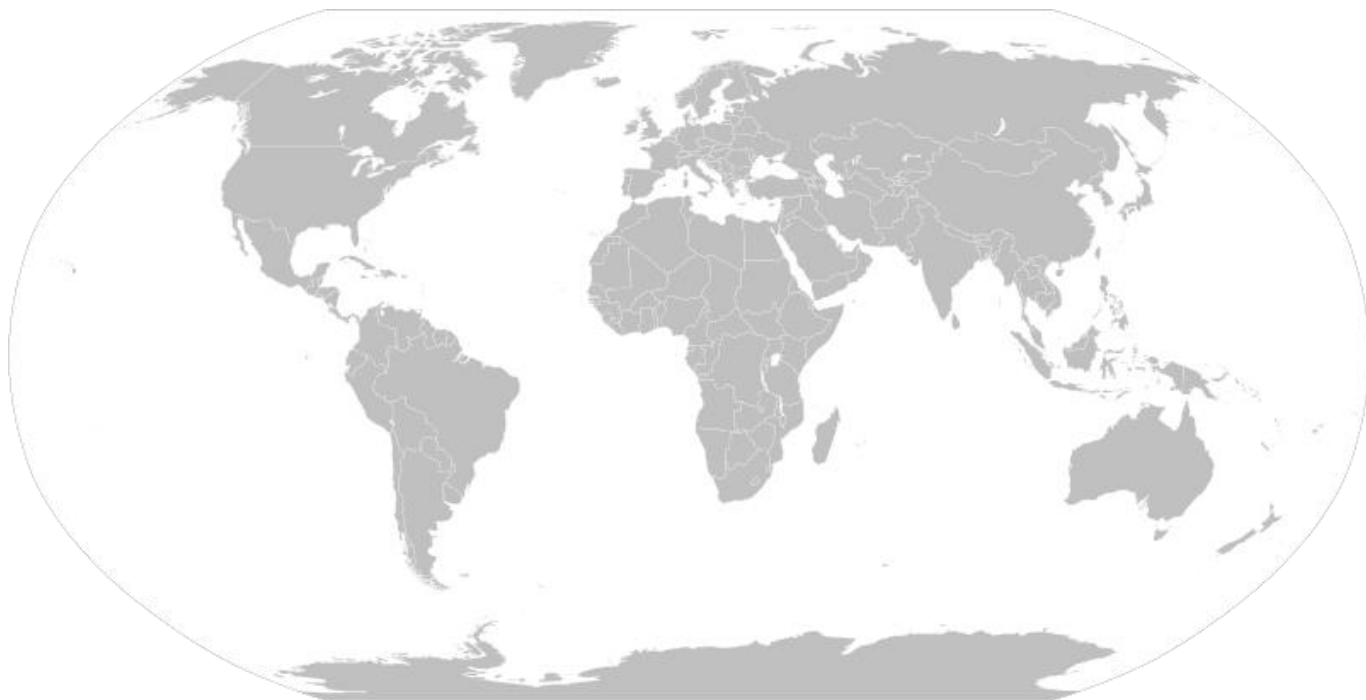


**K** Tasmānijas eikalipts  
*Eucalyptus gunnii*



**L** Zaļā iguāna  
*Iguana iguana*

Katru areālu apzīmē ar burtu, kas dots pie nosaukuma!



4. Atšķetini anagrammas ar Latvijas mežos sastopamo sēņu nosaukumiem! Jau dotie burti ir izsvītroti. (12 p)

A Ā Đ D E E E I I L L N R S Z Ž

--	--	--	--	--

		Ž				D	Z			
--	--	---	--	--	--	---	---	--	--	--

A A Ā E E Ē Ē L M N P R R S Š T V

--	--	--	--	--	--	--

V			Š						
---	--	--	---	--	--	--	--	--	--

A Ā E E I K Ļ N N O R S T Ž

				Ž	
--	--	--	--	---	--

	T			L				
--	---	--	--	---	--	--	--	--

A Ā Č Ć E E E E I M M N N ŀ R U U

Č				R			
---	--	--	--	---	--	--	--

Č							
---	--	--	--	--	--	--	--

A A Ā B E Ē G I Ī L M N P R Z

					G	
--	--	--	--	--	---	--

	Ē						
--	---	--	--	--	--	--	--

Ā E E E E I Ī K L L M N ŀ T T V

		O				
--	--	---	--	--	--	--

	Ī			K			
--	---	--	--	---	--	--	--

### 5. Saliec secīgi! (12 p)

Sakārto mežus no Ziemeļpola līdz Ekvatoram.

- A** Platlapju meži      **B** Jauktie meži      **C** Boreālie meži jeb taiga      **D** Tropu meži

--	--	--	--

Sakārto meža stāvus sākot no zemākā.

- A** Pamežs      **B** Paauga      **C** Zemsedze      **D** Pirmais stāvs      **E** Otrais stāvs      **F** Zemsega

--	--	--	--	--	--

Sakārto Latvijas mežu tipus no barības vielām nabadzīgākā līdz bagātīgākajam.

- A** Gārša      **B** Mētrājs      **C** Sils      **D** Vēris      **E** Damaksnis

--	--	--	--	--

Sakārto dotos kokus pēc to ierašanās Latvijas teritorijā pēc pēdējā ledus laikmeta, sākot ar senāko.

- A** Parastā lazda      **B** Parastā priele      **C** Parastais ozols      **D** Pundurbērzs

--	--	--	--

Sakārto dotos priežu dzimtas kokus pēc to maksimālā augstuma sākot ar augstāko.

- A** Benksa priele  
*Pinus benksii*      **B** Kalnu priele  
*Pinus mugo*      **C** Japānas  
ciedrupiele  
*Pinus parviflora*      **D** Cukurpriele  
*Pinus lambertiana*      **E** Parastā priele  
*Pinus sylvestris*

--	--	--	--	--

Sakārto dotos kokus pēc to atrašanās "Latvijas gada koks" godā sākot ar senāko.

- A** Parastā priele      **B** Pīlādzis      **C** Mežābele      **D** Ozols      **E** Dižskābardis      **F** Melnalksnis

--	--	--	--	--	--

**📌 ATBILŽU IESŪTĪŠANAS TERMIŅŠ NO 27. OKTOBRA LĪDZ 26. NOVEMBRIM.**

#### ZIŅAS PAR KOMANDU

Komandas nosaukums: \_\_\_\_\_

Skola, klase: \_\_\_\_\_

Komandas kontaktinformācija:

E-pasts: \_\_\_\_\_

Telefona numurs: \_\_\_\_\_

**IESNIEDZOT ŠO ANKETU, ESMU IEPAZINĪES AR KONKURSA NOLIKUMU!**